
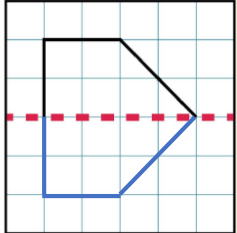


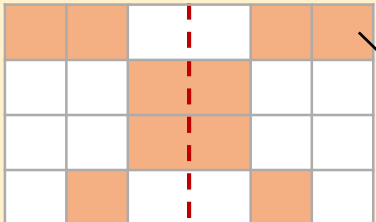


Сурагчийн нэр:

Эхэлсэн: он сар өдөр

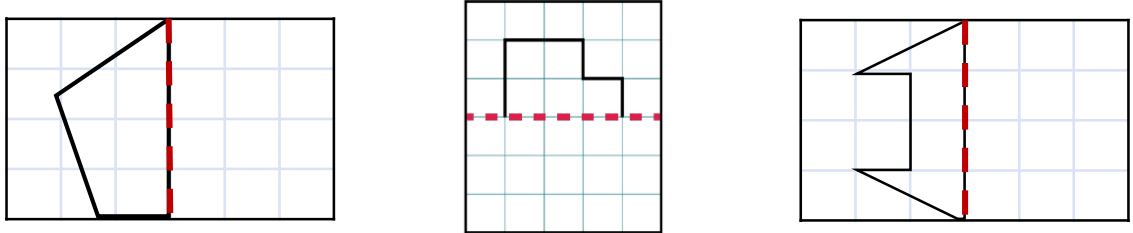




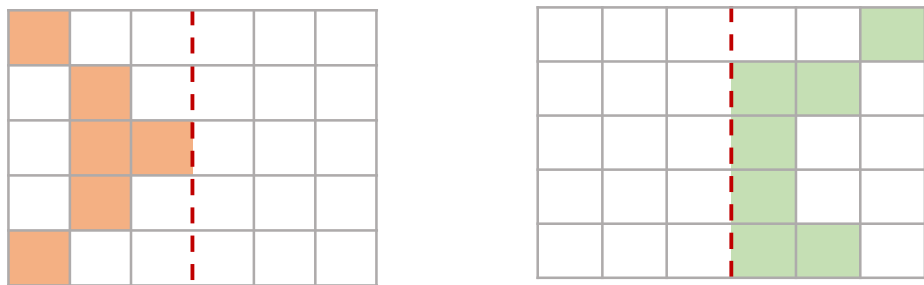


Тасархай шугамын дагуу нугалахад дүрсүүд давхцаж байхаар зурна.

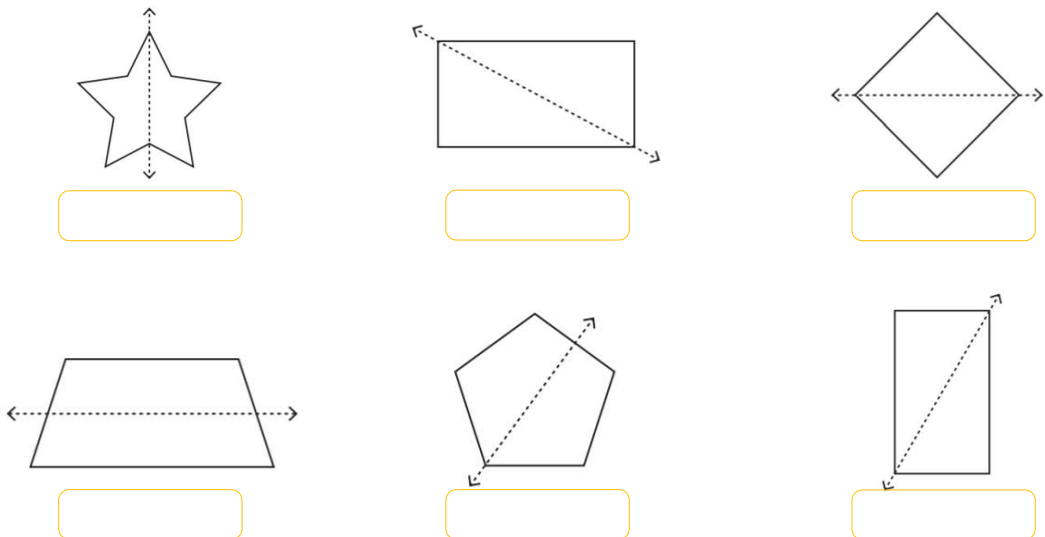
1 Тасархай шугамын хувьд тэгш хэмтэй байхаар гүйцээж зураарай.






2 Тасархай шугамын хувьд тэгш хэмтэй байхаар гүйцээж будаарай.



3 Дүрсийг тэгш хэмээр хуваасан бол “зөв” үгүй бол “буруу” гэж бичээрэй.



Дууссан:сарөдөр

Даалгавар	1	2	3
Өөрийн үнэлгээ			

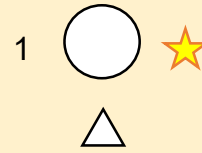


Сурагчийн нэр:

Эхэлсэн: он сар өдөр




- а. Дугуйн баруун гар талд нэгийн тоо бичээрэй.
- б. Дугуйн зүүн гар талд од зураарай.
- в. Дугуйн доод талд гурвалжин зураарай.



1 Нохойны баруун гар талд байгаа амьтныг нэрлэж бичээрэй.




2 Зүүн гар талаас гуравт хэдэн цонхтой байшин байна вэ?



3 Хурганы баруун гар талд байгаа төл малыг нэрлэж бичээрэй.



4 Унадаг дугуйны зүүн гар талд ямар тоглоом байна вэ?



5 Баруун гар талаас хамгийн эхэнд байгаа төл малыг нэрлэж бичээрэй.



6 Зааврын дагуу зураарай.

- а. Байшингийн зүүн гар талд гурвалжин дүрс зураарай.
- б. Байшингийн урд талд дугуй дүрс зураарай.
- в. Байшингийн баруун гар талд дөрвөлжин дүрс зураарай.



Дууссан:сарөдөр



Даалгавар	1	2	3	4	5	6
Өөрийн үнэлгээ	😊	😊	😊	😊	😊	😊

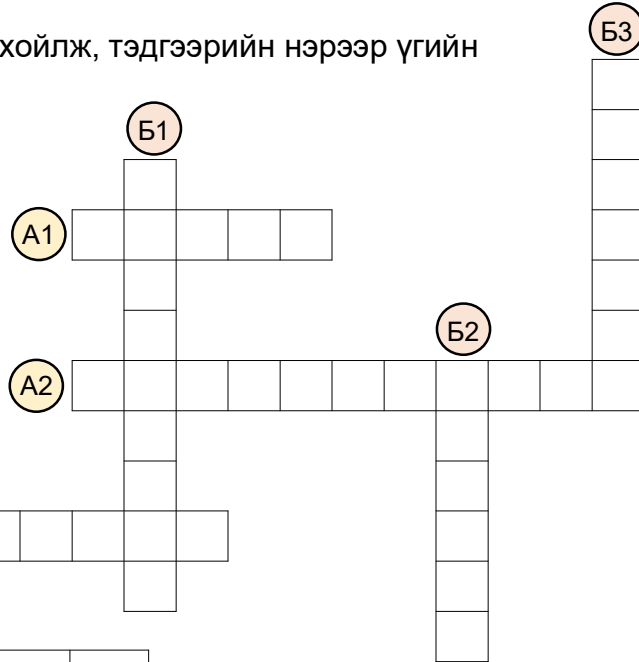


Сурагчийн нэр:

Эхэлсэн: он сар өдөр

1 Дүрс бүрийн байршлыг тодорхойлж, тэдгээрийн нэрээр үгийн сүлжээг бөглөөрэй.

3		
2		
1		
	А	Б



2

5							
4							
3							
2							
1							
	А	Б	В	Г	Д	Е	Ё

Хүснэгтийн нүд бүрийг сагс гэж төсөөлье.

Б1 сагсанд жүрж, түүнээс дээш хоёрдахь сагсанд гадил байрлуулаарай.

Гадилаас баруун гар тийш 3 дахь сагсанд алим байрлуулаарай.

3

4							
3							
2							
1							
	А	Б	В	Г	Д	Е	Ё

Г2 нүдэнд байгаа дүрсийг доошоо 2 нүдээр, тэгээд түүнийгээ зүүн гар тийш 3 нүдээр шилжүүлж зураад, шилжин ирсэн байрлалыг бичээрэй.

4

4							
3							
2							
1							
	А	Б	В	Г	Д	Е	Ё

Гурвалжин дүрсийг Д4 нүдэнд хэдэн янзаар шилжүүлж болох вэ? зураарай.

Дууссан:сарөдөр

Даалгавар	1	2	3	4
Өөрийн үнэлгээ				



Сурагчийн нэр:

Эхэлсэн: он сар өдөр

Мөрийг тоогоор тэмдэглэнэ.

3				
2				
1			▲	
	А	Б	В	

Байршлыг тэмдэглэхдээ эхлээд үсэг, ард нь тоогоо бичнэ.

Баяныг үсгээр тэмдэглэнэ.

1 Хүснэгт дэх жимснүүдийн байршлыг бичээрэй.

4	🍏						
3				🍇			
2			🍓				🍈
1		🍊			🍒		
	А	Б	В	Г	Д	Е	Ё

🍏	🍊	🍓
А4		
🍇	🍒	🍈

2 Дүрсүүдийг өгсөн байршлын дагуу хүснэгтэд зураарай.

△	○	□	↓
В3	А2	Г1	Е1

3						
2						
1						
	А	Б	В	Г	Д	Е

3 Өгсөн байршилд харгалзах өнгөөр гүйцээн будаарай.

Б2	В3	Г4	Д4	Е3	Ё3	И2	Ж3	Ё4	Д3
Шар өнгө									
Е2			Г3		Ж3				
Хар өнгө									
Бүдэг ягаан өнгө									
А5	А6	А7	Б6	Б7	И6	И7	Й7	Й6	Й5

8											
7											
6											
5											
4											
3											
2											
1											
	А	Б	В	Г	Д	Е	Ё	Ж	З	И	Й

4 Илэрхийллийн утгыг олж, хүснэгтэд байршуулан бичээрэй.

75 + 18	100 - 36	34 + 27
Б5	Д1	Г3

93 - 57	64 - 29
А3	В4

5		93				
4						
3						
2						
1						
	А	Б	В	Г	Д	Е